

# 综合测试真题圈

数学·一年级(上)

综合模考练

蚌埠市淮上区 2018 年期末考试真卷

烧脑指数:★★★★☆

易错点 2 道

疑难点 1 道

素养点 1 道

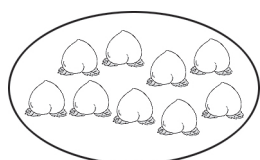
题 序	一	二	三	四	合 计	评定等级
得 分						

## 一、细心算,能算对。(23 分)

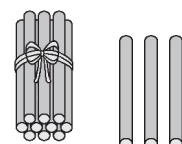
1.  $3+7=$        $13-3=$        $3+8=$        $9+4=$        $8+7=$   
 $8+2=$        $6+10=$        $8-3=$        $9+9=$        $10-6=$   
 $9+1=$        $18-8=$        $2+7=$        $5+6=$        $7+5=$   
 $8+0+9=$        $12-2+4=$        $17-7-6=$        $9-7+8=$   
 $3+(\quad)=13$        $9+(\quad)=14$        $12-(\quad)=10$        $3+4=(\quad)+1$

## 二、认真想,能填对。(33 分)

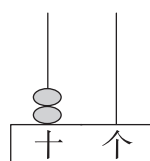
### 2. 看图写数。



(      )



(      )



(      )

3. 

0	2	4		
---	---	---	--	--

	19	18		16	
--	----	----	--	----	--

4. 16 里面有(      )个十和(      )个一。

5. 一个数的个位和十位上的数字都是 1,这个数是(      ),与它相邻的两个数是(      )和(      )。

6. 在○里填上“>”“<”或“=”。

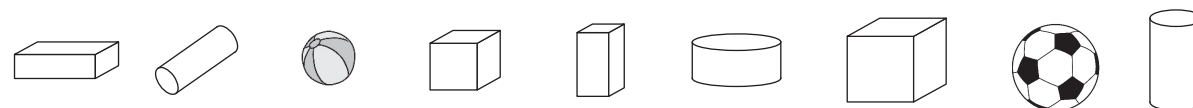
$7 \bigcirc 9$

$8+7 \bigcirc 14$

$6+5 \bigcirc 5+6$


$5+9 \bigcirc 8+9$

7.



从左边数起,第(      )个是 ,从右边数起,第(      )个是 ,这两个球之间有(      )个物体。

8. 疑难点



9.



加法算式: \_\_\_\_\_ 或 \_\_\_\_\_

减法算式: \_\_\_\_\_ 或 \_\_\_\_\_

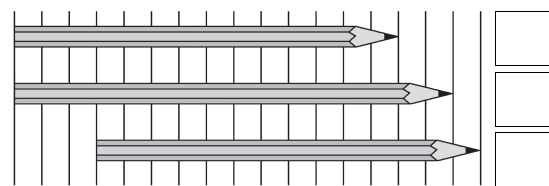
10. 易错点 看图填空。



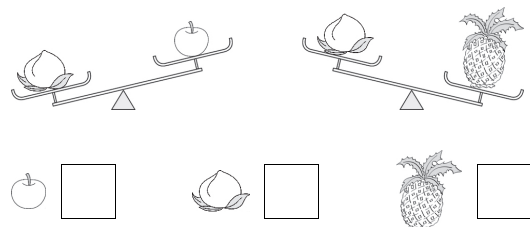
○比△多(      )个,△比○少(      )个;○给△(      )个,它们的个数就一样多了。

三、选一选。(在□里打“√”)(12分)

11. 哪支铅笔最长?



12. 易错点 哪个水果最重?



13. 如果  $5 + ( ) < 13$ , 那么  $( )$  里最大可以填几?

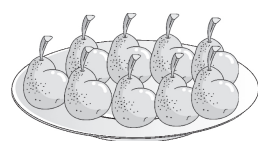
7 ☐

8 ☐

9 ☐

14. 素养点 小明的一些小伙伴到家里来玩, 妈妈准备了一盘梨, 每个小朋友分一个。

小明说: “差不多够了。”可能有多少个小朋友要来?



8 个 ☐

2 个 ☐

18 ☐


15. 10 个小朋友排成一排, 从左往右数, 小明排在第 6 个, 小明左边有几人?

4 人 ☐


5 人 ☐

6 人 ☐


16. 有 15 个小朋友, 给每个小朋友发一个面包, 买哪两盒比较合适?



☐

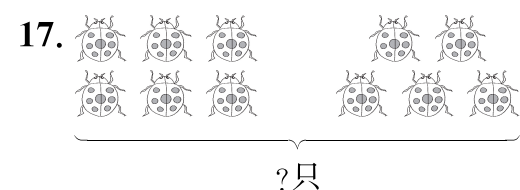


☐

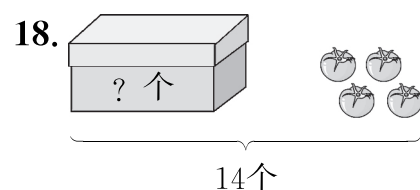


☐


四、解决问题。(32分)




$$\square \bigcirc \square = \square \text{ (只)}$$



$$\square \bigcirc \square = \square \text{ (个)}$$



$$\square \bigcirc \square \bigcirc \square = \square \text{ (只)}$$



$$\square \bigcirc \square \bigcirc \square = \square \text{ (只)}$$

21. 还有几盆花没有浇?



$$\square \bigcirc \square = \square \text{ (盆)}$$

22.



左边一堆有 ( ) 个, 右边一堆有 ( ) 个, 一共有多少个?

$$\square \bigcirc \square = \square \text{ (个)}$$

23. 图书馆里有 18 本故事书。借走 8 本, 还剩多少本?

$$\square \bigcirc \square = \square \text{ (本)}$$

24. 妈妈买了一些草莓, 并把这些草莓分成 4 份。



小红吃了其中的两份, 她最多吃了 ( ) 个, 最少吃了 ( ) 个。

# 答案与解析

## 蚌埠市淮上区 2018 年期末考试真卷

一、1. 10   10   11   13   15   10   16   5   18   4   10

10   9   11   12   17   14   4   10   10   5   2   6

二、2. 9   13   20   3. 6   8   20   17   4. 1   6

5. 11   10   12   6.  $<$     $>$     $=$     $<$

7. 3   2   4   8. 16   1   6   14   4   2

**疑难解析** 凑十法先要判断其中一个加数和几能凑成 10,再从另一个加数中分出几。

9.  $5+4=9$     $4+5=9$     $9-4=5$     $9-5=4$

10. 2   2   1

三、11. ☐  
☒  
☐

12. ☐   ☐   ☒

**易错纠正** 可能出现只看左边的一张图,就过早判断桃子比较重的情况。解决问题要思考全面,看完第二幅图就可以知道菠萝比桃子重。

13. ☒   ☐   ☐   14. ☒   ☐   ☐

**素养评价** 本题与学生生活联系密切,以小伙伴来家里玩为情境设题。体现了中国学生发展核心素养中的问题解决。

15. ☐   ☒   ☐   16. ☒   ☐   ☒

四、17.  $6+5=11$  或  $5+6=11$    18.  $14-4=10$

19.  $8+2+3=13$    20.  $10-3-4=3$    21.  $8-4=4$

22. 3   5    $3+5=8$  或  $5+3=8$    23.  $18-8=10$

24. 10   5