

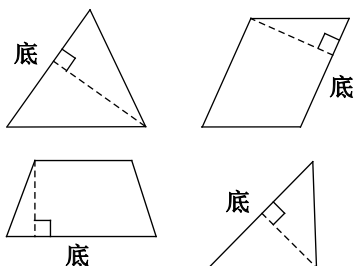
## 第2课时 认识底和高(正文 P<sub>30</sub>)

1.   √   ×   ×   √

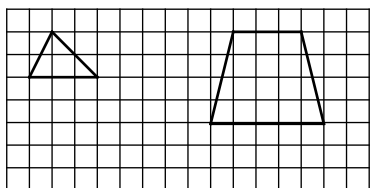
2. (1) C   D   D

(2) B   B   B

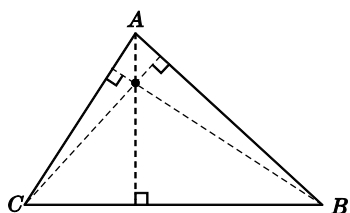
3. (平行四边形和梯形的高画法不唯一)



4. (1)、(2)题答案如下所示：(画法不唯一)



5.



由图可知，这三条高会相交于一个点。

6. 这些高的长度相等，因为平行线间的距离处处相等。