



金星教育旗下品牌



W+1 教育
WORTHILY EDUCATION

联合推出

小升初 数学

百天冲刺大作战



主讲人
荔枝老师

start

公平游戏

警匪游戏

疯

看我“72”变

神奇的牧场

“我”就成了“你”

神秘的x先生







×1

第4关

公平游戏——平均数问题



一人驾驶摩托车从甲地开往乙地，前2小时每小时行驶60千米，后3小时每小时行驶70千米，平均每小时行驶多少千米？






星仔去爬山，上山每小时行4千米，下山原路返回每小时行6千米，求星仔上下山的平均速度。



小华期末考试时，语文、数学和科学三科成绩平均分是96分，英语成绩公布后，四科成绩平均分下降了2分，小华英语成绩是多少分？





老师在黑板上写了十三个自然数，让同学们计算它们的平均数，要求保留两位小数，王林算的答案是12.43，老师说最后一个数字错了，那么正确的答案是多少？



嘟嘟在期末考试中，政治、语文、数学、英语、生物五科的平均分是89分。政治、数学两科的平均分是91.5分。语文、英语两科的平均分是84分。政治、英语两科的平均分是86分，而且英语比语文多10分。问嘟嘟这次考试的各科成绩应是多少分。



轩轩算六个数的平均数，最后一步应除以6，但是他将“ \div ”错写成“ \times ”，于是得到错误的结果是1800，那么，正确的结果是多少？



超市叔叔把3千克水果糖，9千克奶糖混合成什锦糖，已知水果糖每千克7元，奶糖每千克11元，那么什锦糖每千克多少元？



我校男老师的平均年龄是27岁，女老师的平均年龄是32岁，全体老师的平均年龄是30岁。如果男老师比女老师少13名，那么该校共有多少名老师？



某校入学考试，报考的学生中有 $\frac{1}{3}$ 被录取，被录取的学生平均分比录取分数线高6分，没被录取的学生的平均分比录取分数线低24分，所有考生的平均成绩是60分，那么录取分数线是多少分？



《小升初毕业总复习全解》系列图书



· 语文 ·

· 数学 ·

· 英语 ·

· 科学 ·

本丛书以新课程标准为指导，以各版本教材知识体系为依据，紧扣近三年国内各地的小升初考试命题，针对小升初考试需要掌握的知识要点，以知识专题为线，建立“对点详细分析、领域综合测试、真题模拟测试、真题冲关测试”的四轮复习体系。

购书请咨询当地书店

小升初百天冲刺大作战直播课

语文 直播时间：周三/周六19:00

数学 直播时间：周四/周日19:00

英语 直播时间：周二/周五19:00



扫码
报名
观看



谢谢观赏

课件设计：凡 诗

