



3

复式统计表

第1课时 复式统计表

(教材P₃₆例1学后检测)1. (教材P₃₈1题)

金牌数 届数 \ 国家	中 国	美 国	俄罗斯
第 27 届	28	39	32
第 28 届	32	35	27
第 29 届	51	36	23

关于上面三届奥运会,下面哪些说法是正确的?

- (1)中国获得的金牌一届比一届多。
- (2)俄罗斯获得的金牌一届比一届少。
- (3)每届都是美国获得的金牌最多。

2. 下面是育人小学三(1)班学生的体育成绩记录单。(教材P₃₈2题)

男生体育成绩记录单

学号	成绩	学号	成绩
1	良	6	及格
2	优	7	优
3	及格	8	良
4	良	9	及格
5	及格	10	良

女生体育成绩记录单

学号	成绩	学号	成绩
11	良	16	及格
12	及格	17	良
13	优	18	及格
14	良	19	优
15	及格		



请把这些数据整理在下表中。

人数 性别	成绩	优	良	及格	不及格
男生					
女生					

(1) 比较一下这个班男生和女生的体育成绩。

(2) 这个班的体育成绩怎么样？

3. 调查本班同学最喜欢下面哪类图书。(教材 P₃₉ 3 题)




人数 性别	图书种类	儿童文学类	科普类	动漫类	其他
男生					
女生					

(1) 男生喜欢()类图书的人数最多。

(2) 女生喜欢()类图书的人数最多。

4. 调查本班同学爸爸、妈妈每天工作和做家务的时间。(教材 P₃₉

4 题)



人数 父母	时间			
	6 小时以下	6~8 小时	8~10 小时	10 小时以上
爸爸				
妈妈				


(1) 大多数爸爸每天工作和做家务的时间是()小时。

(2) 大多数妈妈每天工作和做家务的时间是()小时。

(3) 看到这个统计结果,你有什么感受?



5. 请在三年级和五年级各选一个班,统计一下这两个班同学每天完成家庭作业所用的时间。(教材 P₄₀ 5 题)



人数 班级	时间	30 分钟以下	30~60 分钟	60 分钟以上
三年级()班				
五年级()班				

- (1) 三年级大多数同学每天完成作业的时间大约在()。
- (2) 五年级大多数同学每天完成作业的时间大约在()。
- (3) 从你的统计中,你发现了什么? 有什么感想?



6. 在班里选三名同学,把他们的个人信息填写在下面的记录单上。(教材 P₄₀ 6 题)

姓名 _____	姓名 _____	姓名 _____
年龄 _____ 岁	年龄 _____ 岁	年龄 _____ 岁
身高 _____ cm	身高 _____ cm	身高 _____ cm
体重 _____ kg	体重 _____ kg	体重 _____ kg

你能在同一个表中,把这些信息都表示出来吗?