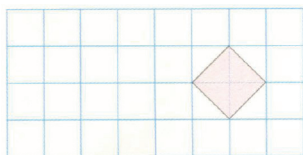





第3课时 平移

(针对教材P₂₅例题的练习)

1. 画一画,并与同伴说一说你是怎么画的。(教材 P₂₆ 1 题)

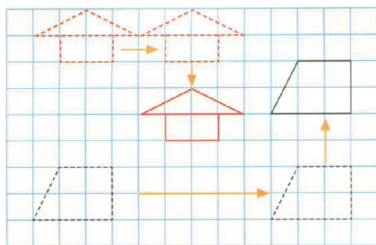


向左平移4格



向右平移7格


2. (教材 P₂₆ 2 题)



- (1) 小房子先向____平移了____格,再向____平移了____格。
(2) 梯形先向____平移了____格,再向____平移了____格。

- (3) 说一说,这两幅图还可以怎样平移到现在的位置?

3. 把右图拼成一个轴对称图形。说一说,画一画,该如何进行平移?
(教材 P₂₆ 3 题)





4. 按要求画出三角形平移后的图形。说一说,原来的平行四边形变成了什么样的图形?(教材 P₂₆ 4 题)

