



第三单元 观察物体

第1课时 观察物体(一)


★旧知回顾(回顾内容:从前、后、左、右等不同的位置观察物体)

下面这些照片分别是谁拍的?连一连。



★新知预习(学习内容:对应教材 32 页例 1,《小学教材全解》60~61 页)

例 1 你能指出投票箱的前面、右面和上面吗?



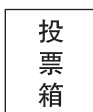
(1)习惯上,我们把写着投票箱三个字的一面当作()面,和自己右手方向一致的一面是()面,朝上的一面是()面。

(2)看一看,连一连。

前面

右面


上面



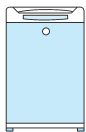
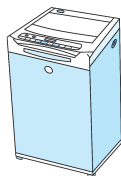
归纳总结:从不同的方向观察同一物体,看到的形状可能不同。

★新知挑战

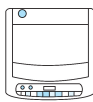
1. 给下面的正方体和长方体的前面涂上红色,右面涂上黄色,上面涂上蓝色。



2. 哪个图形是从洗衣机的右面看到的? 在括号里画“√”。



()



()



()