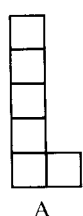


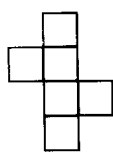
北师大版 2018 学年小学数学五年级下册第二单元第 2 课时

《展开与折叠》同步测试卷（一）

1、在下面的图形中，（ ）是正方体的表面展开图。



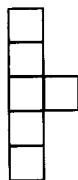
A



B



C

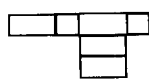


D

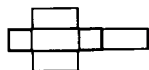
2、下面的图形经过折叠不能围成一个长方体的是（ ）。



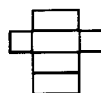
A



B

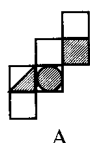


C



D

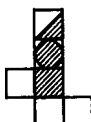
3、如图 1 - 10 所示的立方体，如果把它展开，可以是下列图形中的（ ）。



A



B



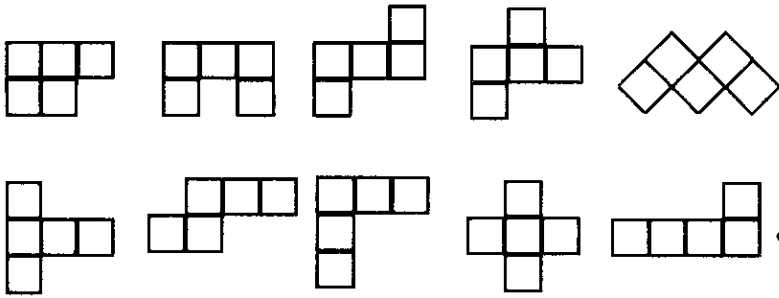
C



D



4、下面 10 个图形中哪些可以折成没有盖子的五个面的小方盒？请指明。





参考答案:

1、B 2、B 3、B 4、第一排 2 3 4 第二排 1 2 45

