





北师大版 2018 学年小学数学三年级上册第八单元测试卷（一）

一、填空题。

1. 看图填空。

	
8.50元	6.55元
()元()角()分	()元()角()分
	
5.08元	0.82元
()元()角()分	()元()角()分

2. 换算成以“元”为单位的小数。

4元5角是()元。

2元8分是()元。

8元8角8分是()元。

2角5分是()元。

3. 0.35读作(),8.50读作(),0.05读作(),六点七七写作(),零点零四写作()。

4. 比较大小。

5元	5元	10元	1角	10元			
5角	1角	5角	1分	1元	5角	1元	1元
()元	()元	()元	()元	()元	()元	()元	()元

5. 笑笑有3张5元纸币和5枚2分硬币,淘气有5张2元纸币和4张5角纸币,()的钱多,多()元。

二、判断题。(对的画“√”,错的画“×”)

1. 像1.2,0.56,34.58,……这样的数叫小数。()

2. 8.01元表示8元1角。()

3. 二点一二写作2.12。()

4. 0.01读作零点零零一。()





5. 计算小数加减法时,应把小数末位对齐。 ()

三、选择题。(把正确答案的序号填在括号里)

1. 妈妈想为爸爸购买一件价格为 90.5 元的上衣,她要付下面最接近的钱数是()元。

A.90 B.100 C.91 D.80

2. 京京有 4.75 元,东东有 7.05 元,他们的钱合起来()买一本 10.52 元的故事书。

A.能 B.不一定能

C.不能 D.无法确定

3. 五十点四零元写作()元。

A.5.41 B.50.04

C.50.40 D.5.40

4. 小明有 7.5 元钱,买了一个布娃娃用去了 5.8 元,还剩()元。

A.1.7 B.1.3 C.13.3 D.1.5

5. 在百米赛跑中,小强的成绩是 12.98 秒,小利的成绩是 13.01 秒,()。

A.小强跑得快

B.小利跑得快

C.两人跑得一样快

四、把下列钱数从大到小排顺序。

1. 1.09 元 1 元 0.99 元 1.01 元

()

2. 1 元 5 角 87 分 25 角 8 角 5 分

()

五、计算题。

1. 直接写得数。(8 分)





$0.1+0.5=$ $2.4+1.2=$

$4.5-1.5=$ $1.6-0.4=$

$17.8-0.5=$ $5.4+3.2=$

$1.1+1.2=$ $6.5-2.4=$

2. 计算。

元 角

$$\begin{array}{r} 20.3 \\ + 30.5 \\ \hline \end{array}$$

元 角

$$\begin{array}{r} 97.8 \\ - 96.2 \\ \hline \end{array}$$

元 角

$$\begin{array}{r} 28.7 \\ - 5.7 \\ \hline \end{array}$$

元 角

$$\begin{array}{r} 7.3 \\ + 2.9 \\ \hline \end{array}$$



六、解决问题。

1. 橘子每千克 1.5 元,香蕉每千克 2.6 元,妈妈各买了 1 千克,用了多少元?
2. 小华买练习本用去了 3.2 元,他现在还剩 5.8 元,他原来有多少元?
3. 新华书店的橱窗里摆着 3 本亮亮最喜欢的书,标价为《漫画》每本 22.6 元,《生活百科》每本 30.7 元,《数学大世界》每本 33.8 元。最便宜的与最贵的相差多少元?
4. 一瓶饮料 4.7 元,比一瓶红茶贵 0.5 元,两瓶红茶的钱正好买一桶橘子汁,一桶橘子汁多少元?
5. 货比三家。

青云超市		
		
文具盒 4.9元	橡皮 0.6元	尺子 1.6元

莲花超市		
		
文具盒 3.5元	书包 8.5元	橡皮 0.5元

大雁超市		
		
文具盒 5.1元	书包 5.2元	橡皮 0.3元

(1)去哪个超市买文具盒便宜?

(2)三家超市比较,橡皮的价格相差最大是多少元?





(3)在青云超市买一个文具盒和一块橡皮,共花多少元?

(4)你还能提出什么问题?试着解答。

第八单元测试卷答案

★ 看微课,5分钟学会一个知识点。

淘知学堂 www.taozhi.cn



一、1.8 5 0 6 5 5 5 0 8 0 8 2

2.4.5 2.08 8.88 0.25

3. 零点三五 八点五零 零点零五 6.77 0.04

4. $5.6 > 5.51$ $11.6 < 12$

5.笑笑 3.1

二、1. $\sqrt{\quad}$ 2. \times 3. $\sqrt{\quad}$ 4. \times 5. \times

三、1. C 2. A 3. C 4. A 5. A

四、1. 1.09元 $>$ 1.01元 $>$ 1元 $>$ 0.99元

2. 25角 $>$ 1元5角 $>$ 87分 $>$ 8角5分

五、1.0.6 3.6 3.0 1.2 17.3 8.6 2.3 4.1

2. 50.8 1.6 23.0 10.2

六、1. $1.5+2.6=4.1$ (元)

2. $3.2+5.8=9.0$ (元)

3. $33.8-22.6=11.2$ (元)

4. $4.7-0.5=4.2$ (元) $4.2+4.2=8.4$ (元)

5.(1)5.1元 $>$ 4.9元 $>$ 3.5元,莲花超市便宜。

(2) $0.6-0.3=0.3$ (元)

(3) $4.9+0.6=5.5$ (元)

(4)答案不唯一,如:去莲花超市买一个文具盒和一块橡皮,共花多少元?

$3.5+0.5=4.0$ (元)

